




الورقة الامتحانية تحتوى على ٣٥ سؤال في المواد الدراسية الاساسية من نوعية اختيار من متعددة.

ضع خط تحت الاجابة الصحيحة من البدائل الموجودة في كل سؤال

أولا: اللغة العربية من موضوع (سميرة موسى)



(ظهر نبوغها في المدرسة الأولية بالقرية وبدا حبها الشديد للعلم والمعرفة ورغبتها في الكشف عن الغوامض)

- ١- معنى (نبوغها) (تفوقها - طموحها - إصرارها - ضعفها)
٢- جمع (العلم) (العلماء - المعالم - العلوم - الأعلام)
٣- إعراب (نبوغ) (فاعل - مبتدأ - مفعول به - مضاف إليه)
٤- إعراب (الشديد) (بدل - نعت - اسم معطوف - فاعل)
٥- وثقت شجرة الدر العلاقة بين زوجها وبين (أصحابها - قومها - جيرانها - حلفائها)
من نص " عباد الرحمن " : قال تعالى :

(وعباد الرحمن الذين يمشون على الأرض هونا وإذا خاطبهم الجاهلون قالوا سلاما والذين يبنيون لربهم سجدا وقياما ..).

٦. معنى (هونا) (سكينه ووقار - ضعف وانكسار - خوف وذلل)
٧. مضاد (الجاهلون) (المتعلمون - الحكماء - الأقوياء - الباحثون)
٨. إعراب (يمشون) فعل مضارع مرفوع به (الواو = الضمة - ثبوت النون - ليس مما سبق)
٩. (توضح الآيات السابقة) (الإسراع في التوبة - الإخلاص في العبادة - الحفاظ على الحقوق - الاعتدال في الإنفاق)
١٠. بين (سجدا وقياما) (ترادف - تماثل - تضاد - ليس مما سبق)

ثانيا: اللغة الانجليزية

1. What are the special foods at the festival?

- a. eating b. ate c. eat d. eaten

2. This Hassan's car. He doesn't have one.

- a. must be b. can't be c. might be d. won't be

3. The photo shows Alexandria in 1990,my parents lived there.

- a. when b. where c. who d. which

4. Salt is often used to fish.


- a. pack b. preserve c. decorate d. celebrate

5. There are many that go around the sun.

- a. stars b. vehicles c. plants d. planets

6. I could hear him because he has a very loud

- a. voice b. sound c. graph d. ability



ثالثا: الدراسات الاجتماعية

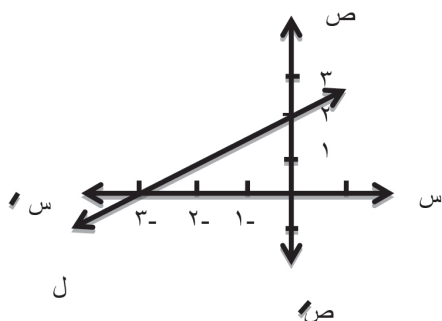


- يتشابه مناخ الإقليم الاستوائي مع مناخ إقليم غرب أوروبا في
(مطر طوال العام - ارتفاع درجة الحرارة صيفا - انخفاض درجة الحرارة شتاء - سقوط الثلوج)
٢- من الدول ذات الرعاية الطبية الفائقة دولة
(روسيا - نيبال - الإمارات - مصر)
٣- في ظل الحكم العثماني تضمنت الطبقة الوسطى في مصر
(الأتراك - المماليك - المشايخ والعلماء - الحرفيين)
٤- أقر دستور ١٩٢٣ م مبادئ حقوق الإنسان في
(المساواة - الاستقلال - إنهاء الاحتلال البريطاني لمصر - إنهاء الأحكام العرفية)
٥- أنشأ محمد علي أول ترسانة للأسطول البحري في
(بولاق - الإسكندرية - دمياط - أسوان)



رابعا : الرياضيات

- ١- إذا كان $(٤، أ)$ \in بيان الدالة د حيث $د(س) = س + ١$ ، فإن $أ =$ (٣، ٤، ٥، ٦)
٢- إذا كانت $(س + ٣، ٦)$ تقع على محور الصادات، فإن $س =$ (صفر، ٣، -٣، ٦)
٣- إذا كانت $ص$ تتناسب طرديا مع $س$ وكانت $ص = ٦$ عندما $س = ٣$ ، فإن قيمة $ص$ عندما $س = ٥$ هو
(٥، ٨، ٩، ١٠)
٥ (الوسط الحسابي للقيم: ١، ٢، ٣، ٤، ٥) =



٦) في الشكل المقابل؛ ميل المستقيم ل =

$$\left(\frac{3}{2}, -\frac{3}{2}, \frac{2}{3}, -\frac{2}{3} \right)$$

٧) إذا كان $طا ٣ = س$ حيث $س$ زاوية حادة، فإن $ق(حس) =$ (١٠، ١٥، ٢٠، ٣٠)

٨) إذا كانت $أ(٥، ٧)$ ، $ب(١، -١)$ ، فإن منتصف $\overline{أب}$ هي النقطة

$$\left((٣، ٣)، (٣، ٢)، (٤، ٢)، (٦، ٦) \right)$$

خامسا : العلوم

- ١- العاملان اللذان يمكن بهما وصف حركة جسم هما.....
- أ- السرعة والزمن ب- المسافة والزمن ج- المساحة والزمن د- الإزاحة والسرعة
- ٢- من أمثلة الكميات الفيزيائية المتجهة.....
- أ- الكتلة ب- الزمن ج- الطول د- الإزاحة
- ٣- من أمثلة الكائنات الحية التي تتكاثر بالتبرعم.....
- أ- فطر عيش الغراب ب- فطر الخميرة ج- نجم البحر د- الأميبا
- ٤- مرآة كرية نصف قطرها ٢٠ سم يكون بعدها البؤري
- أ- ٤٠ سم ب- ٢٠ سم ج- ١٠ سم د- ٥ سم
- ٥- الشعاع الضوئي ماراً بالمركز البصري للعدسة المحدبة فإنه ينفذ
- أ- ماراً بالبؤرة ب- موازياً للمحور الأصلي ج- دون ان يعانى انكسارا د- منعكساً على نفسه
- ٦- تقع المجموعة الشمسية في.....
- أ- منتصف المجرة ب- حافة المجرة الدائرية ج- السديم د- أحد اذرع المجرة اللولبية

الدرجة الكلية